

L'ITALIE

Fiche d'identité

<i>superficie</i>	<i>301 000 km²</i>
<i>Nombre d'habitants</i>	<i>56,3 millions</i>
<i>densité</i>	<i>187</i>
<i>Pnb/hab.</i>	<i>20170 \$</i>
<i>Rang mondial IDH (sur 173 pays classés)</i>	<i>20e</i>
<i>Régime politique</i>	<i>République parlementaire</i>

Dans le cadre ci-dessous, sans regarder dans le livre ou dans ton agenda, note tout ce qui te vient à l'esprit lorsque l'on évoque ce pays méditerranéen (ville, régions, sports, marques, histoire, culture, géographie, gastronomie.....)

1] Se familiariser avec l'espace italien

Sur la carte ci-dessous, en t'aidant du manuel Hatier, place correctement les plaines et les montagnes en respectant les couleurs convenues (note les noms si ils sont indiqués), ainsi que les villes suivantes : Rome, Milan, Turin, Naples, Bari et Palerme. Pense à faire une légende.



Maintenant que le relief italien n'a plus de secret pour toi (ou presque), observe la carte des régions et répond aux questions situées en dessous.



a) Relève au moins trois régions alpines.

b) Dans quelle région se trouvent respectivement les villes que tu as placées sur la carte précédente (Rome, Milan, Turin, Naples, Bari et Palerme) ?

c) Relève la capitale régionale d'Emilie-Romagne, celle de Calabre et celle de Ombrie.

d) Quelles sont les régions à statut spécial ? Où sont elles localisées ?

Lit attentivement le texte suivant et répond aux questions ci-dessous.

L'État italien et les particularismes régionaux

En Italie, les régions disposent, depuis 1948 pour certaines, de pouvoirs qui leur permettent d'exercer un rôle législatif. Les régions à statut spécial (Sicile, Sardaigne, Trentin-Haut-Adige, Frioul-Vénétie et Val d'Aoste) ont des compétences législatives complètes. En 1997-1998, les lois Bassanini ont considérablement accentué la décentralisation régionale italienne en optant délibérément pour un fédéralisme administratif. Il est donc fréquent de constater des exemples d'incompatibilité entre les législations nationale et régionale.


D'après Le Monde diplomatique, avril 2001.

- a) Depuis quand certaines régions disposent d'un statut spécial ? Dans quel domaine ? Explique simplement.
- b) Qu'est-ce que la « décentralisation » ? A partir de quand s'est-elle accentuée en Italie ?
- c) Quel problème la décentralisation entraîne-t-elle ?

L'Italie est avant tout une *péninsule* (avancée de terres dans la mer) méditerranéenne composée d'anciens Etats indépendants réunis au cours du XXe siècle pour ne faire qu'un seul pays. Par conséquent, la compréhension de l'espace italien est complexe et s'explique aussi bien par des éléments géographiques qu'historiques (nous traiterons l'unification italienne en histoire).

2] La population Italienne

Prend la carte **4 page 279** et explique dans un petit paragraphe où sont situées les fortes et faibles densités. Peux-tu expliquer l'organisation du réseau de voies de communication en Italie ?



Prend maintenant le graphique **2 page 280** et fait le travail suivant :

- a) NOTE à nouveau les définitions de taux de natalité, taux de mortalité et accroissement naturel.

- b) En 2000, à quel niveau se situe les taux de natalité et de mortalité ?

- c) Que peux-tu dire de l'accroissement naturel italien ?

3] Deux ou trois Italies ?

	Nord, Centre en 2002	Mezzogiorno en 2002 (régions au sud des Marches et du Latium, y compris la Sardaigne et la Sicile)
Population	35,5 millions d'habitants	20,8 millions d'habitants
PIB par habitant	22 300 euros	12 200 euros
Exportations (par rapport au total du pays)	90 %	10 %
Dépenses mensuelles moyennes par famille	2 260 euros	1 730 euros

Les deux Italies.

a) Quels sont les deux groupements régionaux mis en évidence par ce tableau ? Cherche dans le manuel ce que veut dire « mezzogiorno ».

b) Lequel des deux est le plus peuplé ? Lequel des deux est le plus développé ? Justifie tes réponses avec les éléments du tableau.

Les problèmes du Mezzogiorno subsistent

L'ancienne coupure nord-sud n'est plus aussi marquée, mais le Mezzogiorno est toujours confronté aux mêmes difficultés. L'installation des entreprises publiques, financées par l'État, reposait sur des subventions et des dérogations fiscales. Depuis 1990, la crise entraîne la suppression des entreprises. Dans le Sud, on met un terme à la sidérurgie « subventionnée » et les sous-traitants disparaissent. Cela entraîne notamment la montée des indépendantismes régionaux, comme les « sicilianistes ». Une autre conséquence due à cette situation est la diffusion de l'idée caricaturale que le Nord finance depuis toujours le Sud à fonds perdus.

D'après La Documentation française, 2000.

- a) D'après ce texte, sur quoi reposait l'installation d'entreprises dans le Mezzogiorno ?

- b) Quel type d'industrie n'est désormais plus subventionné ? Quelle conséquence directe cela a-t-il ?

- d) Qu'entraîne le retrait de l'Etat dans l'économie du Sud ?

- e) Explique le groupe de mots suivant : « le Nord finance depuis toujours le Sud à fonds perdus ».

Les deux Italies existent-elles encore ?

Le Mezzogiorno conserve un taux chômage élevé (20 %) alors que la moyenne nationale s'est abaissée de 11 à 9,9 %. Ce taux n'est que de 5,4 % dans les régions au nord autour de la métropole milanaise toujours dynamique. Les entreprises y poursuivent leur développement, mais la réduction du trafic dans le tunnel du Mont-Blanc et le retard du projet du TGV Lyon-Turin risquent de pénaliser à l'avenir le nord-ouest du pays.

D'après Images économiques du monde 2002, SEDES.

- a) A combien s'élève le taux de chômage dans le Mezzogiorno ?

- b) Quelle est la différence entre ce taux de chômage et le taux moyen national ? Et la différence avec le taux de chômage du Nord ?

- c) Malgré le développement, qu'est-ce qui risque, à l'avenir, de pénaliser les régions du Nord-Ouest ?

La troisième Italie

La troisième Italie se situe entre les deux autres, et pas seulement par sa position géographique. Le Centre remet en question la traditionnelle coupure nord-sud. Constitué de nombreuses **PME** (textile, habillement, chaussures, meubles, mécanique) pratiquant l'**économie souterraine** dans des villes de taille moyenne, le Centre perpétue l'ancienne tradition artisanale de l'Italie. Son développement a commencé dans les années 1970 : l'électroménager avec Zanussi, Benetton pour la confection, les chaussures de ski Nordica. Cette économie, qui repose sur de petites et moyennes entreprises, est localisée en Émilie-Romagne, dans les Marches, et dans une partie des Abruzzes et des Pouilles.

D'après R. Ferras, L'Europe et ses États : une géographie, La Documentation française, 2000.

a) Où se situe la troisième Italie ? Que remet-elle en question ?

b) Quels sont les éléments qui font le dynamisme de cette troisième Italie ?

c) Quelles sont les marques qui, ici, dans les années 1970, ont permis à cet espace de ce développer ? Avas-tu noté une de ces marques au début du chapitre ?

d) Sur quel type d'entreprise repose surtout le développement ? Où ces entreprises sont elles surtout situées ?

3] L'Italie, un pays touristique




a) D'après cette carte, quelles sont les grandes régions touristiques en Italie ?

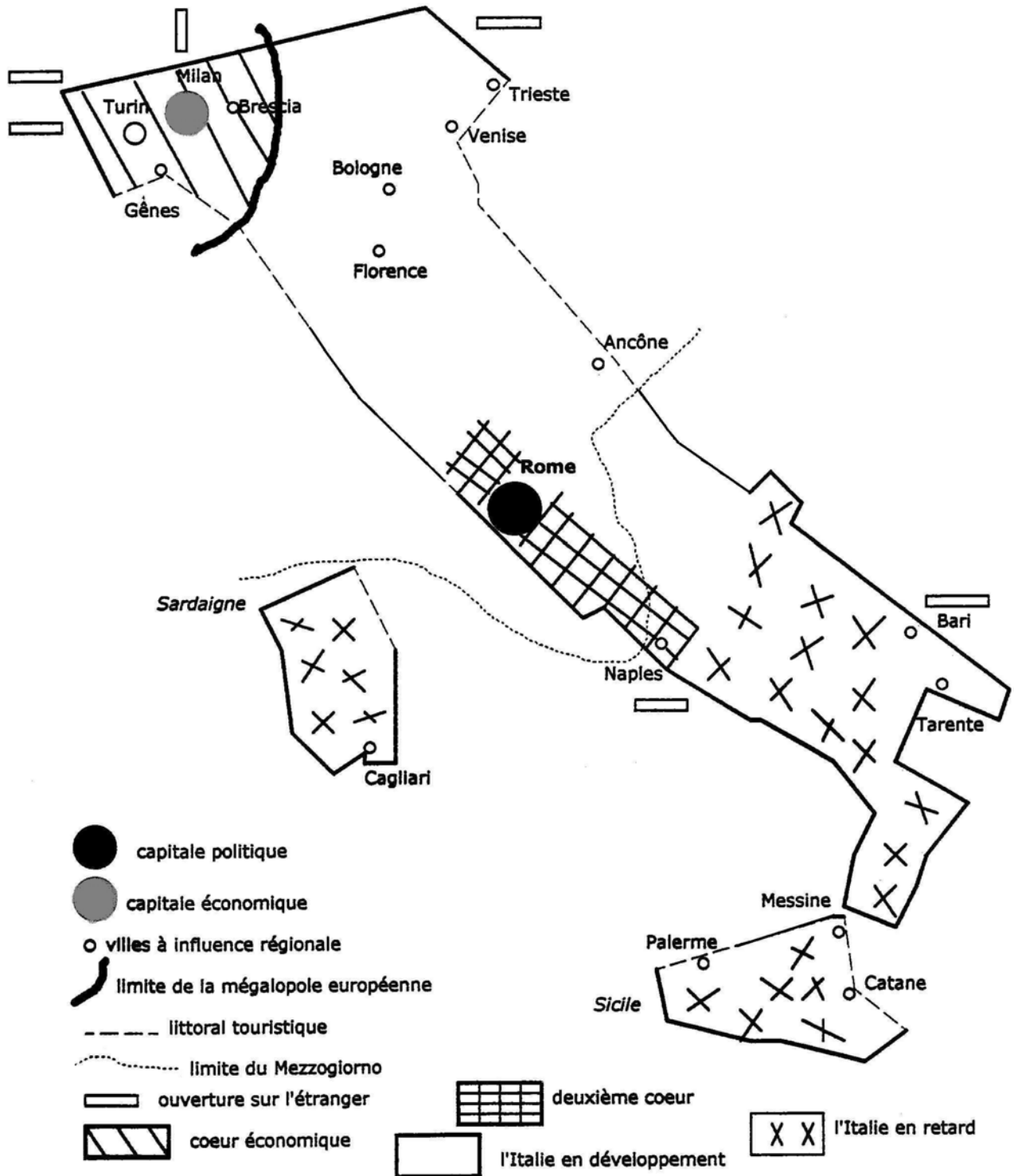
b) Où sont surtout situées les stations balnéaires ?

c) Excepté les stations balnéaires, quelles autres formes de tourisme trouve-t-on en Italie ?

d) Au CDI, ou à la maison, fait quelques recherches sur l'intérêt touristique de la région de Syracuse en Sicile.



5] L'organisation de l'espace italien



Finalement combien pourrait-on dénombrer d'Italie ?